

الاسم:	فرض مراقبة رقم 8 في مادة التكنولوجيا		المدرسة الإعدادية دار فضال سكرة
اللقب:	8 أساسي		
التاريخ: 2011/5/...	العدد: 20/.....	المدة: نصف ساعة	الأستاذة: معاد حمادي

هام : * قبل الشروع في الإجابة أحرص على قراءة الاختبار كاملا * يمنع تبادل الأدوات * أحرص على استغلال كامل الوقت

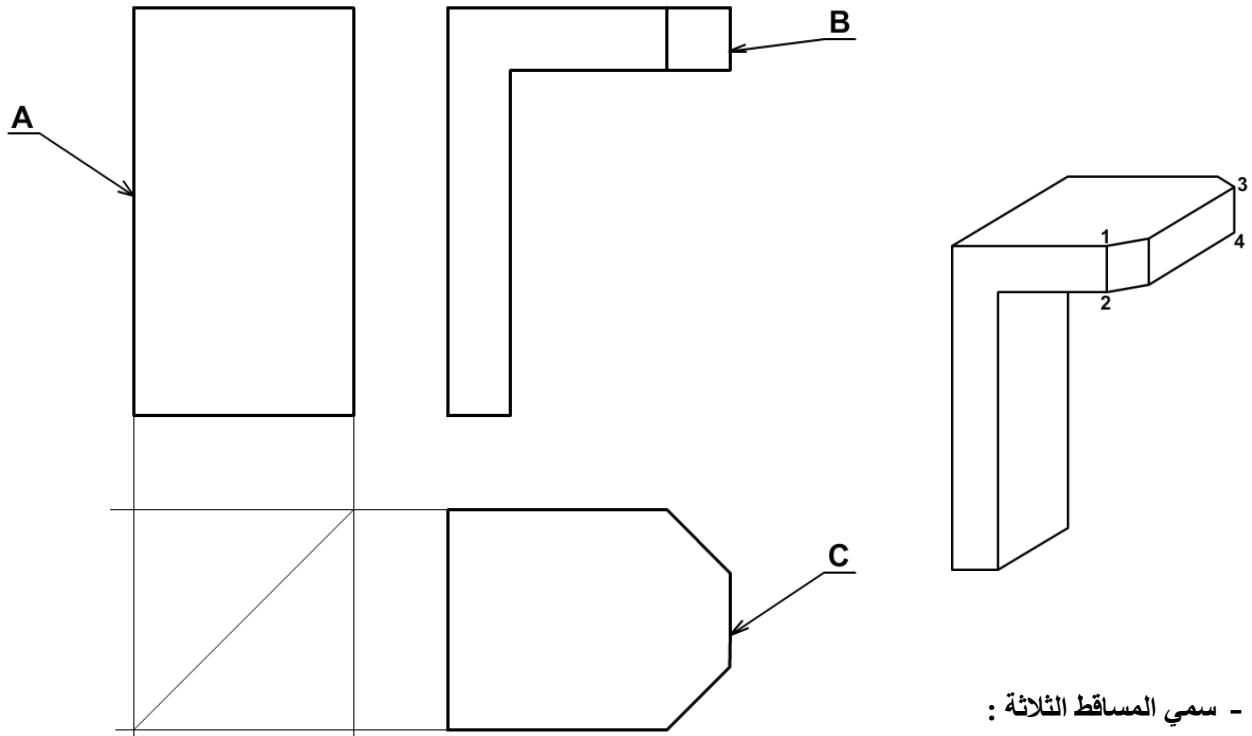
التمرين الأول: (2.5 نقاط)

(1) أجب بنعم أو لا على المقترحات التالية:

- ترسم الأضلاع الظاهرة بالخط الرقيق المتقطع (.....)
- تكون الوثائق التقنيّة ذات مقاس A4 أكبر من مقاس A3 (.....)
- تكتب أسماء المساقط في الرسم التقني فوق المسقط (.....)
- يرسم المسقط الخلفي أسفل المسقط الرأسي (.....)
- المسقط الرأسي و اليميني و اليساري و الخلفي ترسم على نفس الخط الأفقي و لها نفس الطول (.....)

(2) إنطلاقا من الرسم المنظوري للقطعة التالية، (10.5 نقاط)

- 1 - لون في الرسم الشامل الظاهر في القطعة 1 و 2 بلون مختلف في المسطّين
- 2 - لدينا رسم تعريفي في ثلاثة مساقط ورسم منظوري لحامل الكاشف رقم 1:



أ - سمي المساقط الثلاثة :

- - A
- - B
- - C

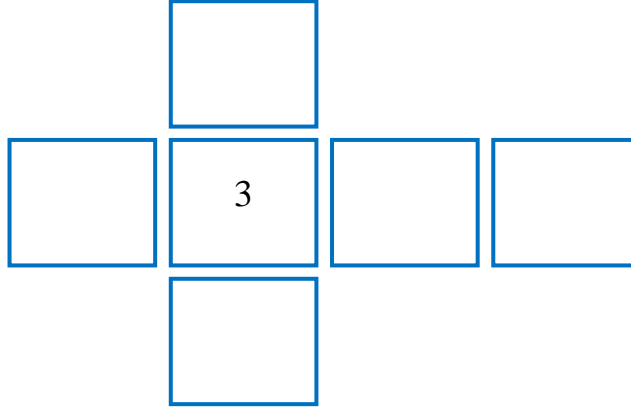
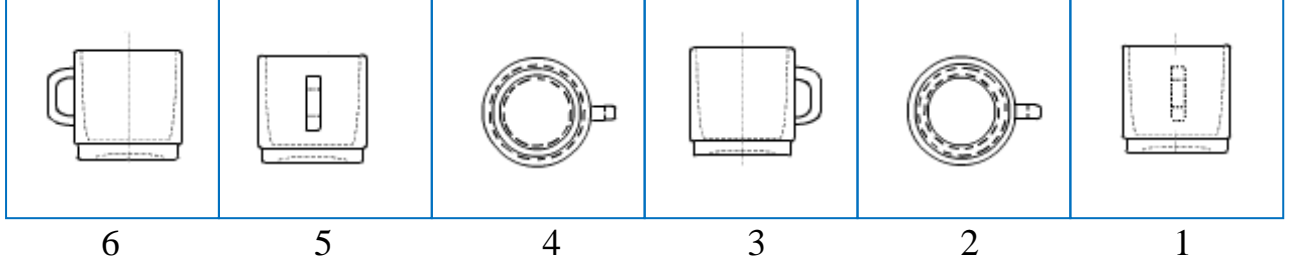
ب - أتمم رسم المساقط A و C .

التمرين الثاني: أكمل الجمل التالية بما يناسب. (7 نقاط)

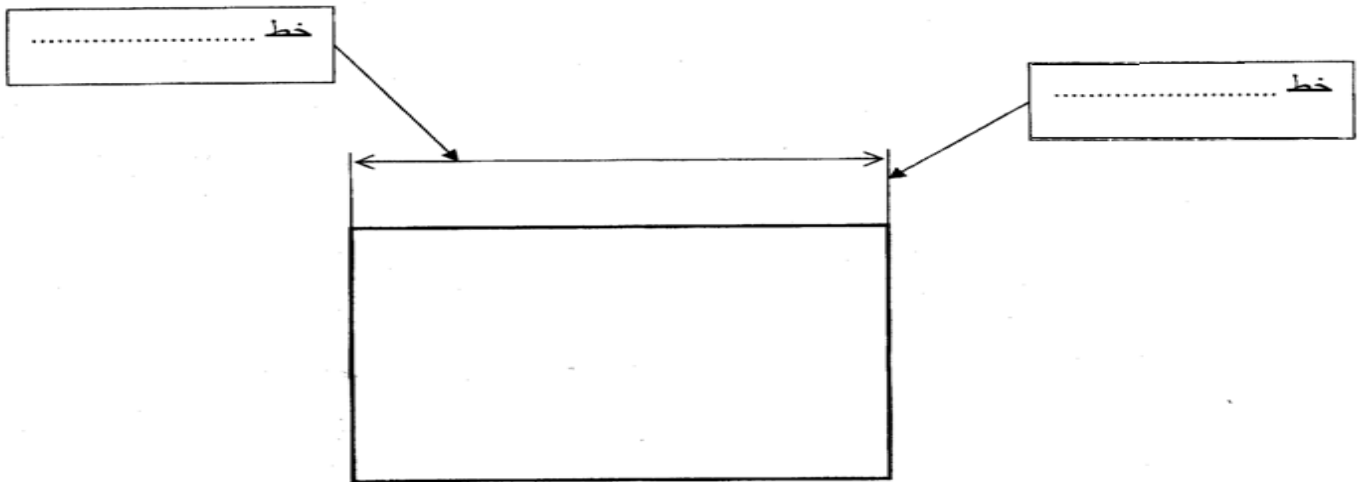
- ننظر من و نرسم المسقط اليميني على المسقط الأمامي.
- ننظر من و نرسم المسقط السفلي على المسقط الأمامي.
- للتمييز بين المساقط نسمي المسقط حسب

التمرين الثالث:

- أ- يمثل الرسم التالي ستة مساقط غير مرتبة للكأس.
- أضع رقم كل مسقط في مكانه المناسب.



ب) اكمل تعمييرا لفراغات باستعمال العبارات التالية: عمودي ... البعد ... أفقي ... التحديد



إذا كان البعد فان الأرقام تكتب فوق خط البعد

إذا كان البعد فان الأرقام تكتب على يسار خط البعد

