

الاسم:..... اللقب:.....	اختبار كتابي عدد 1 في مادة التربية التكنولوجية		معهد حي البستان بقليبية
الرقم:.....	الأستاذ : وائل سعود		
/ 20	القسم: 8 أ.....	الضارب: 1	التوقيت: 30 دق
			التاريخ: ...../...../.....

### \*المنتج (مكواة ثياب)

أكمل التعريف التالي (كراس الشروط الوظيفي)

كراس الشروط الوظيفي هو ..... بين ..... و ..... تتضمن الشروط التي يجب احترامها عند ..... ويتكون من العناصر التالية:

① .....

ح<sup>ا</sup>الطلب: يندرج هذا المنتج في إطار صياغة حاجة المستعمل .....

ح<sup>ب</sup>.....: ان الأجهزة المتوفرة

\* باهظة الثمن

\* تستهلك الكثير من الطاقة

\* غير متينة

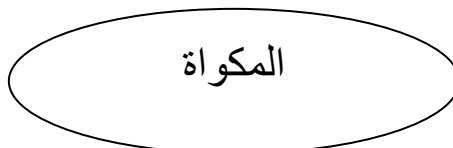
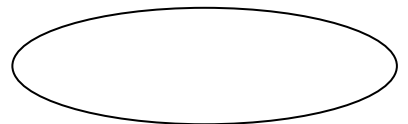
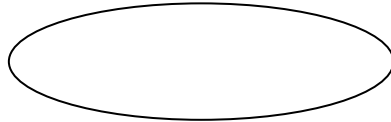
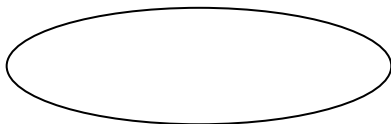
② (.....)

يكون الجهاز قابلا للتركيب في مخابر التكنولوجيا.

③ التعبير عن الحاجة

④ .....

أكمل الاداة التالية باستعمال الكلمات التالية : مواد التنظيف- الثمن- التيار الكهربائي- الثياب- المستعمل – العين- الماء- السبورة



أكمل الجدول التالي باستعمال الكلمات التالية (المعيار-مستوى المعيار-الليونة):

$\pm 10 \text{ V}$  / جذاب / الجهد /  $1800 \text{ W}$  /  $\pm 10^\circ$  / الشكل / مسطحة /  $5 \text{ d} \pm$  / الثمن /  $120^\circ$

الرمز	الوظيفة	المعايير	مستوى المعايير	مستوى الليونة
ور	تمكن مكواة الثياب ..... من .....	الانزلاق	لا يلتصق بالثياب	.....
		الحرارة	.....	.....
وت1	.....	.....	جميل	.....
		اللون	.....	.....
وت2	يجب أن يكون ثمن مكواة الثياب مناسباً.	.....	40 د	.....
وت3	توضع مكواة الثياب بسهولة على الطاولة.	مساحة التلامس	.....	.....
		القاعدة	متلائمة مع حجم المكواة	.....
وت4	.....	.....	220 V	.....
		القوة	.....	$\pm 10 \text{ W}$