

السنة الدراسية:

2012/2011

المستوى: 8 اساسى

فرض عادي عدد 02 علوم الحياة و الأرض

المدرسة الإعدادية الكريب

الاستاذة: شراز التليلي

الاسم.....اللقب.....القسم.....الرقم.....

التمرين 1 عدد (05 نقاط) :

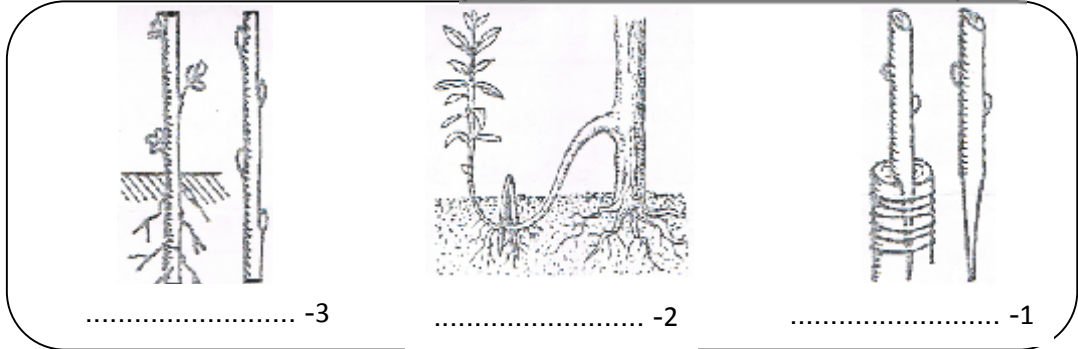
اكمل الجدول الموالي بما يناسب من المصطلحات الموافقة للتعريف:

التعريف	المصطلحات
الجهاز التكاثري الانثوي
ينتمي الى المثبر و يوجد بداخله حبوب الطلع
الجهاز التكاثري الانثوي
الخلايا الجنسية الانثوية
المحيط الخارجي للزهرة

التمرين 2 عدد (05 نقاط) :

مثل التكاثر الخضري الاصطناعي طريقة جيدة و سريعة للحصول على نباتات جديدة .

1. الرسوم الموالية و اذكر الطريقة المعتمدة حسب كل رسم:



2. يحدث التكاثر الخضري بشكل طبيعي ايضا و ذلك بعدة طرق

استد لكل رقم من العمود الاول الحرف المناسب من العمود الثاني:

الامثلة	اعضاء التكاثر الخضري
ا- البطاطا	1- البصلات
ب- الثوم	2- الساق الزاحفة
ج- النعناع	3- الجذامير
د- الفراولو	4- الدرناات
هـ- الموز	5- الخلفات

3. اذكر اهميتين اثنتين (2) من اهميات التكاثر الخضري:

..... ✓
..... ✓


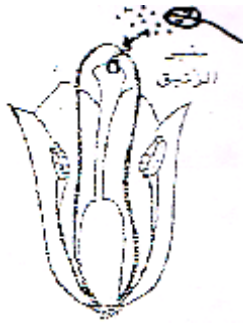

✓ التابر الخلطي:

✓ الاخصاب:

التمرين 4 عدد (08 نقاط)

لدراسة عوامل تحول البويضات إلى بذور و المبيض إلى ثمرة، اجزنا التجارب التالية على زهرة الزنبق.

1. شاهد التجارب و اذكر نتيجة كل تجربة من هذه التجارب في الجدول التالي:

تغطي المدقة قبل نضج الزهرة		زهرة عادية	
			التجارب
.....	النتائج
.....
.....

2. اذكر استنتاجا مناسبيا لهذه التجارب.



3. اكمل الفقرة الموالية بما يناسب مما درست:

عندما ينضج المئبر تتناثر و تسقط فوق

تسمى هذه العملية

بعد ذلك تتكون نخرق القلم و تصل إلى المبيض ثم إلى

انبوب إلى بضة معينة فيتحدان معهما لنحصل على بويضة

تتحول بعد ذلك البويضات إلى و المبيض إلى

4. اذكر (2) من طرق انتقال حبوب الطلع

..... ✓

..... ✓

عملا موفقا