

Devoir de contrôle n°1 ***** Durée : 1 heure

Professeur : HADRICH Hassen

Note :

Nom et Prénom:.....

Classe : 7B

N°:

20

Exercice 1 : (..... / 1.5 points)

Remplis les vides par les termes suivants :

automatique / traitement / information.

L'informatique est la science de automatique des informations. Ce terme est la contraction de deux mots : et

Exercice 2 : (..... / 3 points)

Valide par Vrai (V) ou Faux (F) les propositions dans chacune des phrases suivantes :

1. Les domaines d'application de l'informatique sont : <input type="checkbox"/> médecine <input type="checkbox"/> éducation <input type="checkbox"/> industrie	2. Une unité centrale permet : <input type="checkbox"/> d'introduire les données <input type="checkbox"/> de reproduire les résultats <input type="checkbox"/> de traiter les informations
3. Parmi les périphériques d'entrée, on trouve : <input type="checkbox"/> le scanner <input type="checkbox"/> l'imprimante <input type="checkbox"/> le clavier	4. L'informatique est : <input type="checkbox"/> une science <input type="checkbox"/> une machine <input type="checkbox"/> un animal

Exercice 3 : (..... / 3.5 points)

Complète les phrases par des expressions de la liste suivante :







visuelle / automatique / ordinateur / périphériques / programmes / unité centrale / auditive

- Un est une machine qui assure le traitement des informations à l'aide des
- L'information traitée par l'ordinateur peut être sous forme (texte, dessin, image...) (parole, musique) ou les deux à la fois.
- Chaque ordinateur est composé d'une et des qui servent au dialogue utilisateur-machine.

Exercice 4 : (..... / 6 points)




Indique les noms des périphériques ci-dessous et leurs types (d'entrée ou de sortie) :

Noms des périphériques : Haut-parleur, Imprimante, Souris, Clavier, Ecran, Scanner.

 Nom : Type :	 Nom : Type :
 Nom : Type :	 Nom : Type :
 Nom : Type :	 Nom : Type :

Exercice 5 : (..... / 3 points)

Relis chaque support de stockage par son nom et sa description :

Supports	Noms	Descriptions	Réponses
A) 	a) La disquette	1) Support magnétique ayant une grande capacité de stockage et permettant de sauvegarder les données.	A → →
B) 	b) Le CD	2) Support magnétique amovible de capacité très réduite, permettant d'enregistrer d'une façon permanente des données.	B → →
C) 	c) Le disque dur	3) Disque optique permettant l'enregistrement des données.	C → →

Exercice 6 : (..... / 3 points)

Réponds par « Vrai » si la phrase est correcte et par « Faux » sinon :

1. L'unité centrale fait le traitement des informations.
2. L'écran est le composant principal de l'ordinateur.
3. L'image est une information auditive.
4. La parole est information audio-visuelle.
5. L'imprimante permet produire des textes et des images de l'ordinateur sur papier.
6. La souris permet de déplacer un pointeur à l'écran et de manipuler les objets.